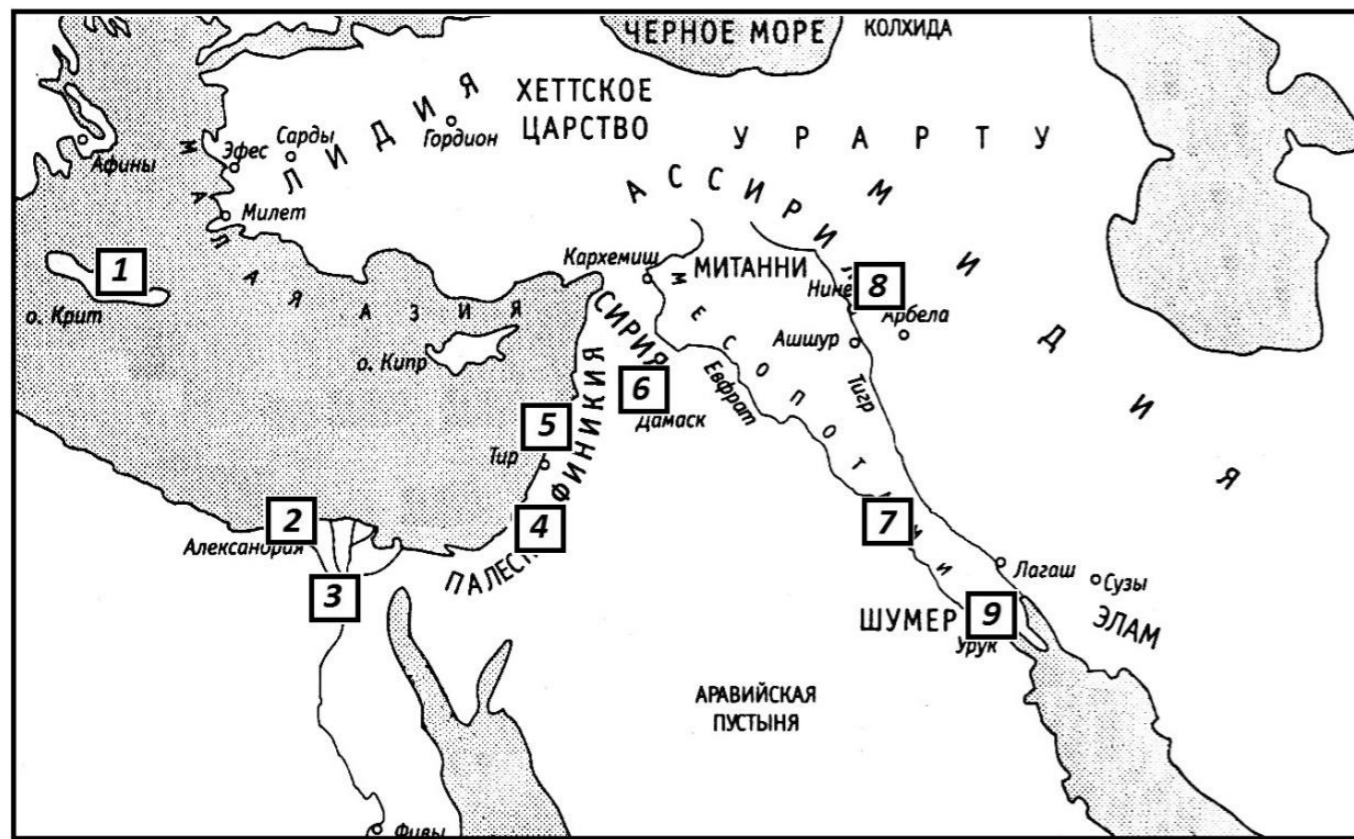


11 Напишите термины, определения которым даны ниже.

- 1) \_\_\_\_\_ – сплав меди и олова.
- 2) \_\_\_\_\_ – жрец в древней Индии, представитель высшей касты.
- 3) \_\_\_\_\_ – материал для письма в древнем Египте.

12 Перед вами карта Древнего Востока. Часть названий заменена цифрами. Внимательно рассмотрите карту, прочитайте данные ниже вопросы и ответе на них. Помните, что ответ нужно записывать цифрой.



- 1) Данный город был основан Александром Великим. \_\_\_\_\_
- 2) На этом острове возникла одна из первых европейских цивилизаций. \_\_\_\_\_
- 3) Во время царствования Ашшурбанапала в этом городе была создана знаменитая царская библиотека, в которой хранилось более 30 тысяч клинописных табличек. \_\_\_\_\_
- 4) Согласно библейским сказаниям, в этом городе была построена башня до неба. \_\_\_\_\_
- 5) В этом городе длительное время существовал большой рынок оружия. Это привело к тому, что булатные стали, производимые тогда в основном в Персии и Индии, стали называться названием этого сирийского города. \_\_\_\_\_



Дорогой друг! Обязательно скажи себе после олимпиады:

**Я прошел это испытание! У меня все получилось! Я горжусь собой!**

Стремись быть ПЕРВЫМ во всем, и ты станешь ПЕРВЫМ!



2023-2024  
УЧЕБНЫЙ ГОД

ШКОЛЬНЫЙ ЭТАП  
★ ШЭ-2023 ★

# ИСТОРИЯ

• 5 класс •

• Город/район: \_\_\_\_\_ • Школа: \_\_\_\_\_  
• Класс: \_\_\_\_\_ • Фамилия, имя участника: \_\_\_\_\_

Персональная итоговая таблица (заполняется учителем – членом жюри школьного этапа)

Задания	1	2	3	4	5	6	7	8	9	10	11	12	Сумма
Количество баллов													

Подпись учителя

ФИО учителя

ЖЕЛАЕМ УСПЕХА!

1 В каждом пункте (1-5) отметьте ● один верный вариант ответа.

- 1) В какой из периодов истории живём мы?  
 Древний мир       Средние века       Новое время       Новейшее время
- 2) В период первобытности основным занятием людей было ...  
 земледелие       изготовление орудий труда       собирательство       ремесло
- 3) Эту реку шумеры называли «Быстрая вода».  
 Нил       Ганг       Тибр       Тигр
- 4) Какой из этих городов был основан позже других?  
 Иерусалим       Вавилон       Уфа       Библ
- 5) Правитель империи Маурьев в Индии с 273 по 232 год до н. э., покровитель буддизма – ...  
 Ашока       Хеопс       Лао Цзы       Будда


2 Внимательно прочитайте отрывки из рассказов и напишите, о каких животных идёт речь в тексте.

- 1) Старый Еа подошел к стене пещеры и охрой нарисовал силуэт зверя. Зверь напоминал гору, из которой торчали две извилистые палки. Остатки краски стекли по камню, оставляя буро-красные следы. Еа повернулся к остальным и сказал: «Охота сегодня будет удачной!»  
 \_\_\_\_\_
- 2) Айша повернула голову в сторону кустов и зарычала. Люди тут же повернулись в ту же сторону. Мужчины стали поднимать копья – все помнили, какую опасность может представлять нападение соседей. Айша поднялась и скалясь пошла вперед. Мужчины пошли за ней.  
 \_\_\_\_\_
- 3) Агни вышел из городища, ведя на веревке Кара. Теперь, когда дым жилища остался позади и свежий степной воздух наполнил грудь мальчика, он потрепал Кара за гриву. Затем, ловким движением, он вскочил ему спину. В это мгновение они превращались в нечто единое: огромное живое существо, которое в едином прорыве несло по степи, и, казалось, было способно обогнать ветер.  
 \_\_\_\_\_

**3** Расположите события (А-Г) в хронологической последовательности. Отметьте ● соответствующий порядковый номер (1-4).

- А) Освоение человеком земледелия  1  2  3  4  
 Б) Создание законов царем Хаммурапи  1  2  3  4  
 В) Строительство первых пирамид в Египте  1  2  3  4  
 Г) Первобытный человек научился изготавливать орудия труда  1  2  3  4

**4** Внимательно посмотрите на иллюстрацию и отметьте ● три верных суждения, относящихся к ней.



- На иллюстрации изображены существа вида Ното.  
 В период, изображенный на картинке, люди уже пользовались огнем.  
 На иллюстрации изображены австралопитеки.  
 В период, изображенный на картинке, люди уже освоили земледелие.  
 Ряд учёных считают, что охота на мамонтов повлияла на их вымирание.  
 Во время охоты люди активно пользовались металлическими наконечниками.

**5** Перед вами пять суждений. Если согласны – отметьте ● Да, а если не согласны – ● Нет.

- 1) Возникновение государств Междуречья во многом связано с тем, что необходимо было создавать ирригационные системы по бурным рекам.  Да  Нет  
 2) Колесо – одно из величайших изобретений, которое изменило историю.  Да  Нет  
 3) Палка-копалка — одно из первых орудий, которое изобрел человек, в период освоения земледелия.  Да  Нет  
 4) В междуречье Тигра и Евфрата был построен один из величайших городов древности – Тир.  Да  Нет  
 5) Скрижалей завета, согласно Библии, было две.  Да  Нет

**6** Внимательно прочитайте текст и дайте ответ.

«Варке было уже 35 лет, когда он впервые отправился в страну Черной земли. Случилось это в 1675 году до нашей эры, по нашему летоисчислению. Его целью было продать красное дерево местным вельможам. Он хорошо понимал, что сейчас его сыну лишь 7 лет, но когда он вернется, сыну уже будет 10 лет и придется искать ему жену».


- 1) В каком году родился Варка? \_\_\_\_\_  
 2) В каком году Варка вернется из путешествия? \_\_\_\_\_

**7** Прочитайте текст и вставьте пропущенные слова.

Междуречье – один из древнейших центров цивилизации. Междуречье входит, в так называемый, \_\_\_\_\_ полумесяц. Цивилизация в долине \_\_\_\_\_ и \_\_\_\_\_ появилась, благодаря ежегодным разливам рек, после которых в долине оставались плодородные почвы, удобренные илом. Произошло это примерно в то же время, что и в \_\_\_\_\_ (страна) – более 5000 лет назад.

Урожайность в долине двух рек была очень высокой: в удачные годы можно было собрать два урожая вместо одного, поэтому основная часть населения Междуречья занималась \_\_\_\_\_. Широкое развитие в Двуречье получило и \_\_\_\_\_: быков и волов использовали для распашки земель, а ослов – для перевозки тяжестей.

**8** Решите кроссворд «Древний Египет».



- 1) Море, в которое впадает Нил.  
 2) Египетский бог, царь мира мертвых.  
 3) Название короны египетских фараонов.  
 4) Эта часть реки Нил была самой важной и плодородной.  
 5) В египетской мифологии этот жук почитался как священное насекомое и считался символом возрождения в загробной жизни.

**9** Соотнесите события (1-5) с историческими личностями (А-Е).

Отметьте в таблице ● соответствующую букву.

		А	Б	В	Г	Д	Е
1	Мудрый правитель Израильского царства	<input type="radio"/>	<input type="radio"/>	<input type="radio"/>	<input type="radio"/>	<input type="radio"/>	<input type="radio"/>
2	Великий правитель Персии	<input type="radio"/>	<input type="radio"/>	<input type="radio"/>	<input type="radio"/>	<input type="radio"/>	<input type="radio"/>
3	Создатель первой мировой религии	<input type="radio"/>	<input type="radio"/>	<input type="radio"/>	<input type="radio"/>	<input type="radio"/>	<input type="radio"/>
4	Первый император Китая	<input type="radio"/>	<input type="radio"/>	<input type="radio"/>	<input type="radio"/>	<input type="radio"/>	<input type="radio"/>
5	Этот фараон пытался создать культ единого бога Атона	<input type="radio"/>	<input type="radio"/>	<input type="radio"/>	<input type="radio"/>	<input type="radio"/>	<input type="radio"/>

Исторические личности: А) Соломон В) Цинь Шихуан Д) Эхнатон  
 Б) Кир Г) Гильгамеш Е) Будда

**10** Объясните, что объединяет эти понятия.

- 1) Генеалогия, Археология, Хронология – \_\_\_\_\_  
 2) Библия, Сидон, Тир – \_\_\_\_\_